

Всероссийская олимпиада школьников 2024-2025 учебный год
Школьный этап. Обществознание, 7 класс, задания
Время выполнения 60 мин. Максимальное кол-во баллов – 100

Уважаемый участник олимпиады!

Перед Вами 9 заданий школьного этапа всероссийской олимпиады школьников по обществознанию.

Для их выполнения у Вас есть 60 минут.

Задания считаются выполненными, если Вы вовремя сдали их членам жюри. Внимательно читайте текст заданий. Содержание ответа вписывайте в отведённые поля, записи ведите чётко и разборчиво.

При выполнении заданий можно пользоваться черновиком. Записи в черновике не учитываются при оценивании работы.

За каждый правильный ответ Вы можете получить определённое членами жюри количество баллов, не выше указанной в сводной таблице максимальной оценки.

Баллы, полученные Вами за выполненные задания, суммируются.

1. Определите правильные и ошибочные утверждения. Если вы согласны с утверждением, напишите «да», если не согласны – «нет». Ответы запишите в таблицу. Максимальное количество баллов 10.

- 1.1. Потребность понять и узнать себя способствует развитию самосознания.
- 1.2. Нравственные поступки требуют наград, слова благодарности, похвалу.
- 1.3. Межличностный конфликт может быть вызван стремлением партнеров по общению отстоять противоположные взгляды.
- 1.4. Развитие научных знаний усиливает воздействие общества на природу.
- 1.5. Семья, в которой, помимо супругов и их детей, проживают еще и родители одного из супругов, называется двухпоколенной.
- 1.6. После того как человек удовлетворит какие - либо потребности, новых уже никогда не возникает.
- 1.7. Каждый человек – индивидуальность, т.е. обладает неповторимостью.
- 1.8. Появление ярмарок в эпоху средневековья свидетельствует о развитии товарного производства.
- 1.9. К большим социальным группам можно отнести работников одного предприятия или учеников одной школы.
- 1.10. Инстинкт самосохранения относится к социальному, а не биологическому в человеке.

2. Дайте краткое обоснование ряда (что объединяет перечисленные элементы). Укажите, какой из элементов в каждом ряду является лишним по данному основанию. Максимальное количество баллов 9.

1. Гимн, герб, язык, флаг
2. Музей, стадион, выставочный зал, библиотека
3. Водители автобусов, компания друзей, семья, волейбольная команда

3. Перед вами новости из жизни Красноярского края. Установите соответствие между новостями и сферами общественной жизни, к которым они относятся. К каждой новости из первой колонки выберите сферу общественной жизни из второй. Свои ответы занесите в таблицу. Максимальное количество баллов 7.

Новости	Сферы общественной жизни
<p>А) В Красноярском крае запустят конвейерное производство космических спутников.</p> <p>Б) В Красноярске открылась галерея современного автомобильного искусства.</p> <p>В) Глава Избирательной комиссии Красноярского края рассказал губернатору о подготовке к предстоящим выборам.</p> <p>Г) В Красноярском крае многодетные родители могут обратиться за предоставлением ежегодного пособия на ребенка-школьника.</p> <p>Д) В июле 2024 г. в с.Шушенском проходил традиционный международный этнофестиваль «МИР Сибири»</p> <p>Е) Благодаря строительству метро в Красноярске развернут большой производственный комплекс.</p> <p>Ж) В Красноярском крае стартовала благотворительная акция «Помоги пойти учиться», которая уже более 20 лет проводится в нашем регионе в преддверии нового учебного года.</p>	<p>1. экономическая</p> <p>2. политическая</p> <p>3. социальная</p> <p>4. духовная</p>

4. Решите логическую задачу. Ответы занесите в таблицу. Максимальное количество баллов 10.

В шахматном турнире участвовали школьники: Олеся, Борис, Егор, Вася и Даша. Все они разного возраста: 12, 13, 14, 15 и 16 лет. Олеся старше Васи, но моложе Егора. Самая старшая из них — девочка, а самый младший — мальчик. Борис старше Егора. Определите, сколько лет каждому из участников турнира.

5. Решите экономическую задачу. Максимальное количество баллов 6.

В семье Ивановых четыре дочери-школьницы. Мама планирует купить на распродаже школьные платья дочерям.

В магазине «Солнышко» проводится акция: «Каждому купившему два платья по цене 2875 рублей, каждое третье платье – в подарок!»

В магазине «Ивушка» платья предлагают по акции: «Каждому купившему одно платье за 2546 рублей, второе – за полцены!»

Ответьте на вопросы: 1. В каком магазине выгоднее сделать покупку? 2. На сколько (в рублях) будут различаться покупки в этих магазинах? Продемонстрируйте свои расчеты в бланке ответов.

6. Рассмотрите картины известных русских художников, которые иллюстрируют различные человеческие потребности. Разделите картины на три группы в соответствии с тремя группами потребностей. В таблице ответа в первой строке назовите вид потребностей, а под каждой из них, во второй строке перечислите номера картин, которые их демонстрируют. Максимальное количество баллов 14.



1.



5.



2.



6.



3.



7.




4.



8.

7. Найдите в тексте 8 ошибок. Запишите их в таблицу и напишите правильные формулировки. Максимальное количество баллов 16.



По горизонтали:	По вертикали
<p>1. человек, обладающий определенными социально-значимыми чертами</p> <p>3. высокий уровень способностей человека</p> <p>6. форма общения, бывает устная и письменная</p> <p>7. система взглядов, связанная с верой в сверхъестественное</p> <p>8. форма правления, при которой власть передается по наследству</p> <p>10. человек, принадлежащий к постоянному населению государства, пользующийся его защитой и наделенный совокупностью прав и обязанностей.</p>	<p>2. возможность оказывать воздействие на что-то либо кого-то</p> <p>4. процесс, результатом которого является получение нового знания</p> <p>5. любовь к Родине</p> <p>9. хозяйственная деятельность, а также совокупность наук о ведении хозяйства.</p>

Всероссийская олимпиада школьников 2024-2025 учебный год
Школьный этап. Обществознание, 5-6 класс, задания
Время выполнения 45 мин. Максимальное кол-во баллов –40

Уважаемый участник олимпиады!

Перед Вами 9 заданий школьного этапа всероссийской олимпиады школьников по обществознанию.

Для их выполнения у Вас есть 45 минут.

Задания считаются выполненными, если Вы вовремя сдали их членам жюри. Внимательно читайте текст заданий. Содержание ответа вписывайте в отведённые поля, записи ведите чётко и разборчиво.

При выполнении заданий можно пользоваться черновиком. Записи в черновике не учитываются при оценивании работы.

За каждый правильный ответ Вы можете получить определённое членами жюри количество баллов, не выше указанной в сводной таблице максимальной оценки.

Баллы, полученные Вами за выполненные задания, суммируются.

Максимально возможное количество баллов за работу –40.

1. Определите правильные и ошибочные утверждения. Если вы согласны с утверждением, напишите «да», если не согласны – «нет». Ответы занесите в таблицу в бланке ответов. Максимальное количество баллов 7.

- 1.1. В Российской Федерации уплата налогов является правом гражданина.
- 1.2. Планирование семейных расходов является примером рационального экономического поведения.
- 1.3. Название «человек разумный» связано с большим объёмом мозга и развитым мышлением.
- 1.4. В нашей стране основное общее образование является обязательным.
- 1.5. Игра ребенка не является деятельностью.
- 1.6. Общество в широком смысле — это весь окружающий человека мир.
- 1.7. Изобретение в древности колеса является примером прогресса.

2. Используя все приведенные слова и словосочетания, составьте определение понятия. Назовите это понятие. Максимальное количество баллов 3.

качеств человека, с другими людьми, и, в деятельности, в процессе жизни, общении, которые приобретаются им, в обществе, совокупность

3. Древние греки называли логику «наукой о правильном мышлении», «способностью к рассуждению». Логика учит тому, как из одних размышлений следуют другие и почему это правильно. Попробуйте и вы решить логическую задачу. Максимальное количество баллов 3.

Хитрый лис шел к реке и по пути увидел 5 слонов. Каждый из 5 слонов видел, как 2 обезьяны шли к реке, и у каждой в лапах было по две черепахи. Сколько всего животных шло к реке? Поясните свое решение.

4. Прочитайте приведенный ниже текст, в котором пропущен ряд слов. Выберите из приведенного ниже списка слова, которые необходимо вставить вместо пропусков. Свой ответ запишите в таблицу. Максимальное количество баллов 7.

Деятельность — это ___А___ отношения человека к внешнему миру, который регулируется ___Б___, это ___В___, в ходе которого индивид меняет действительность

и познает мир. В основе деятельности лежат ___Г___, которые человек стремится удовлетворить. ___Д___ деятельности заставляют его совершать определенные действия, а ___Е___ - это желаемый ___Ж___, которого он хочет достичь.

Слова в списке даны в именительном падеже. Каждое слово может быть использовано только один раз. Обратите внимание на то, что слов в списке больше, чем Вам потребуется для заполнения пропусков

- | | | |
|--------------|-------------|----------------|
| 1) мотивы | 4) сознание | 7) способ |
| 2) инстинкты | 5) процесс | 8) средства |
| 3) результат | 6) цель | 9) потребности |

5. Решите экономическую задачу. Максимальное количество баллов 2.

Розничная цена учебника 180 рублей, она на 20% выше оптовой цены. Какое наибольшее количество таких учебников можно купить по оптовой цене на 10000 рублей? В ответе обязательно покажите свои расчеты.


6. Соотнесите примеры межличностных отношений и виды межличностных отношений. К каждому виду межличностных отношений из второго столбца подберите соответствующий пример из первого столбца. Ответ запишите в таблицу. Максимальное количество баллов 5.

Примеры межличностных отношений	Виды межличностных отношений
А) Таня и Оля близко общаются, доверяют друг другу свои мысли и переживания.	1) знакомство
Б) Иван всегда здоровается с продавцом в магазине.	2) приятельство
В) Рита всегда старается помочь маме и не огорчать ее.	3) товарищество
Г) Ребята из одного двора часто встречаются и обсуждают общие темы – им приятно общаться.	4) дружба
Д) Группа старшеклассников представила на конкурс общий проект.	5) любовь

7. Рассмотрите изображения и классифицируйте их, разделив на две группы. Давать названия группам не нужно. Номера иллюстраций впишите в таблицу ответов. Максимальное количество баллов 6.



1.



2.



3.



4.



5.



6.

8. Социологи выделяют разные способы разрешения конфликтов. Прочитайте приведённые отрывки из литературных произведений и подберите из предложенного ниже списка к каждому отрывку соответствующий способ (один отрывок – один способ). Максимальное количество баллов 3.

Способы разрешения конфликтов:

- 1) приспособление
- 2) избегание
- 3) компромисс
- 4) применение силы
- 5) посредничество

А) А старая жаба сидела внизу, в тине, и убирала своё жилище тростником и жёлтыми кувшинками — надо же было приукрасить всё для молодой невестки! Потом она поплыла со своим безобразным сынком к листу, где сидела Дюймовочка, чтобы взять, прежде всего, её хорошенькую кроватку и поставить в спальне невесты. Старая жаба очень низко присела в воде перед девочкой и сказала:

— Вот мой сынок, твой будущий муж! Вы славно заживёте с ним у нас в тине.

— Коакс, коакс, брекке-ке-кекс! — только и мог сказать сынок.

Они взяли хорошенькую кроватку и уплыли с ней, а девочка осталась одна-одинёшенька на зелёном листе и горько-горько плакала, — ей вовсе не хотелось жить у гадкой жабы и выйти замуж за её противного сына.

Рыбки столпились внизу, у стебля, на котором держался лист, и живо перегрызли его своими зубами; листок с девочкой поплыл по течению, дальше, дальше... Теперь уж жабе ни за что было не догнать крошку!

Б) Никто друг с другом согласиться не может, каждый кричит:

— Моё яблоко!

Крик, шум на весь лес. И уже драка начинается: Ворона Ежа в нос клюнула, Ёж Зайца иголками уколел, а Заяц Ворону ногой лягнул...

Вот тут-то Медведь и появился. Да как рявкнет:

— Что такое? Что за шум?

Все к нему:

— Ты, Михаил Иванович, в лесу самый большой, самый умный. Рассуди нас по справедливости. Кому это яблоко присудишь, так тому и быть.

И рассказали Медведю всё, как было...

— Вот что, — рассудил Медведь, — все вы правы, и потому каждый из вас должен яблоко получить...

— Но тут только одно яблоко! — сказали Ёж, Заяц и Ворона.

— Разделите это яблоко на равные части, и пусть каждый возьмёт себе по кусочку.

И все хором воскликнули:

— Как же мы раньше не догадались!

В) Котёнок Гав и щенок собирались позавтракать, но на двоих у них была только одна сосиска.

— Как же мы её будем делить? — спросил щенок

— Очень просто, — сказал котёнок. — То, что от начала до середины сосиски, будет тебе, а от середины до конца — мне.

Щенок подумал и вздохнул.

— Нет, так не получится.

— Почему не получится?

— Потому что мы не знаем, где у сосиски конец, а где начало. А значит, и середину не найдём.

— Действительно, — согласился котёнок, — не знаем. Тогда давай так: ты начнёшь есть сосиску с одной стороны, а я — с другой. Там, где мы встретимся, и будет как раз середина.

— Хорошо, — согласился щенок, и они начали есть.

9. Рассмотрите предложенные иллюстрации и ответьте на вопросы





9.1. Как называется данная деятельность? (1 балл)

9.2. Какими качествами должен обладать человек, занимающийся данной деятельностью (назовите не менее трех качеств)? (1 балл)

9.3. Почему данная деятельность является общественно-полезной (дайте развернутый ответ)? (2 балла)

Всероссийская олимпиада школьников 2024-2025 учебный год
Школьный этап. Обществознание, 9 класс, задания.
Время выполнения 90 минут. Максимальное количество баллов 100

Задание 1. «Да» или «нет»? Если вы согласны с утверждением, напишите «да», если не согласны – «нет». Внесите свои ответы в таблицу в бланке ответов.
Каждый правильный ответ – 2 балла. Всего за задание 20 баллов.

- А) Наука систематизирует знания об окружающем мире.
- Б) Рыночная экономика, в отличие от других типов экономик, периодически подвержена кризисам.
- В) Этноты формируются только после возникновения государства.
- Г) К факторам производства относят капитал, землю, труд и предпринимательские способности.
- Д) Формами правления являются республика и монархия.
- Е) Христианство, ислам и буддизм относятся к мировым религиям.
- Ж) Ведущая роль сельского хозяйства характеризует индустриальное общество.
- З) Социальные конфликты всегда ведут к негативным последствиям.
- И) Безработица создает социальную напряженность в обществе.
- К) Центральный банк, в отличие от коммерческих банков, осуществляет эмиссию денег.

Задание 2. Ознакомьтесь с инфографикой (РОССТАТ за 2022 год) и выполните задания.



Задание 2.1. Для каждого предложения подберите подходящее окончание. Обратите внимание: окончаний дано больше, чем предложений. Ответы внесите в таблицу в листе ответов.

За каждое правильное соответствие 1 балл. Всего за задание 5 баллов.

1. Мужчины чаще всего вступают в первый брак...	А. ... в возрасте до 18 лет
2. Реже всего мужчины и женщины вступают в брак...	Б. ... до 29 лет
3. Примерно 13% женщин вступают в первый брак ...	В. ... в возрасте 18-19 лет
4. Почти 84% женщин выходят замуж...	Г. ... у мужчин выше, чем у женщин.
5. Средний возраст вступления в брак...	Д. ... до 25 лет
	Е. ... у женщин выше, чем у мужчин
	Ж. ... в возрасте 23-25 лет.

Задание 2.2. Укажите брачный возраст, установленный законом Российской Федерации. Какие вы можете назвать обстоятельства, препятствующие заключению брака по закону в РФ? Назовите любые 3 обстоятельства.

За верно указанный возраст 2 балла, за каждое верно сформулированное обстоятельство - 2 балла. Всего за задание 8 баллов.

Задание 3. Установите соответствие между факторами производства и факторными доходами. Обратите внимание: факторных доходов больше, чем факторов производства. Запишите ответы в таблицу в листе ответов.

Каждое соответствие – 2 балла. Всего за задание 8 баллов.

Факторы производства	Факторные доходы
1. Земля	А. Прибыль
2. Капитал	Б. Доход
3. Труд	В. Ресурсы
4. Предпринимательство	Г. Рента
	Д. Заработная плата
	Е. Процент

Задание 4. Проанализируйте ситуации и определите к какой отрасли права мы могли бы отнести представленные случаи, свои ответы запишите в бланке ответов.

За каждую правильно названную отрасль права 3 балла. Всего за задание 15 баллов.

А. Гражданин А. и гражданка Б. решили пожениться, заключить брачный договор и усыновить ребенка.


Б. Бабушка Н. регулярно переходила дорогу в неположенном месте, потому что ей было далеко идти до пешеходного перехода, за это она получила штраф.

В. Дедушка К. завещал трехкомнатную квартиру своему внуку.

Г. Отец и сын по предварительному сговору совершили разбойное нападение на ювелирный магазин и попытались скрыться на угнанном автомобиле, но были задержаны сотрудниками полиции.

Д. Студент И. заключил трудовой договор и устроился на работу в свободное от учебы время.

Задание 5. Рассмотрите картину русского художника Н.П. Богданова-Бельского «Устный счёт. В народной школе С.А. Рачинского» и выполните задания.



5.1. Какой основной вид деятельности может быть проиллюстрирован данной картиной? Запишите ответ в бланк ответов.

За верный ответ 3 балла

5.2. Выберите верные суждения, которые соответствуют содержанию приведенной картины. Запишите ответ в бланк ответов.

За каждый верный ответ – 2 балла. За указание неверного ответа отнимается 1 балл. Всего за задание – 10 баллов

- А) Науку, которые изучают дети на картине можно отнести к естественным наукам.
- Б) На картине изображен вид деятельности, направленный на приобретение человеком знаний, умений, навыков.
- В) Можно предположить, что дети, изображенные на картине, относятся к крестьянскому сословию.
- Г) Ученики, изображенные на картине, предположительно получают высшее образование.
- Д) Деятельность учителя можно отнести к интеллектуальному труду.
- Е) Можно предположить, что на картине изображена малая социальная группа – школьный класс.
- Ж) Социальная роль, которую исполняют все люди, изображенные на картине, - ученик.
- З) Если учитель, изображенный на картине, перейдет работать в другую народную школу с теми же условиями труда, то это будет примером горизонтальной социальной мобильности.

Задание 6. Решите экономическую задачу.

За правильное решение с расчетами и объяснением 5 баллов.

У Егора и Кристины есть накопленные деньги, по 300 тысяч рублей у каждого. Егор хранит деньги в сейфе дома. Кристина открыла вклад в банке под 10% годовых и вложила туда свои 300 тысяч рублей. Проценты начисляются ежемесячно. Капитализация вклада не осуществляется, то есть каждый месяц проценты начисляются только на исходную сумму 300 тысяч рублей. Насколько больше денег будет у Кристины на вкладе, чем у Егора в сейфе через полгода?

Приведите необходимые вычисления.

Задание 7. Сопоставьте виды культур и пример. Результаты сопоставления внесите в таблицу в бланке ответов.

За каждое правильное сопоставление 1 балл. Всего за задание 3 балла.

А) Народная культура	1. 
Б) Массовая культура	2. 
В) Элитарная культура	3. 

Задание 8. Решите задачу. Заполните недостающие ячейки таблицы в бланке ответов.

Государства X, Y и Z граничат между собой. Известно, что в государствах X и Y одинаковая форма правления, она отличается от формы правления в государстве Z, и это не республика.

Государство Z разделено на провинции, в которых действуют выборные губернаторы, и в каждой провинции существует собственное законодательство. Государство X – унитарное государство, а в государстве Y территориальные части не имеют самостоятельности, а органы власти в территориальных частях подчинены единому центру.

В государствах X и Z демократический режим, а в государстве Y он не демократический и не авторитарный, там власть обладает неограниченными полномочиями, отсутствуют права и свободы человека, а политическая оппозиция подвержена массовым репрессиям.

Определите форму правления, форму государственного устройства и политический режим в странах X, Y и Z.

За каждый верно заполненный пропуск – 1балл. Всего за задание 6 баллов.

Задание 9. Прочитайте текст и ответьте на вопросы

Дистанционная торговля прочно вошла в нашу повседневную жизнь и с каждым годом завоевывает все большую популярность. Как удобно, не покидая дома или своего рабочего места, получить искомый товар непосредственно по месту своего нахождения. Но поскольку данный метод продаж вошел в нашу жизнь недавно, то необходимо знать о некоторых особенностях, отличающих дистанционную торговлю от продажи товаров в стационарных местах торговли.

Продажа товаров дистанционным способом подразумевает, что у потребителя нет возможности ознакомиться ни с самим товаром, ни с образцом товара до момента его получения. А ознакомление происходит исключительно при помощи коммуникативных средств, таких как каталоги, почтовые рассылки, рекламные объявления, телефон, телевидение и т. п. Также при совершении сделки обе стороны не встречаются лицом к лицу. Любая продажа, осуществленная без непосредственного присутствия продавца, на основании информации, взятой из каталогов, телевидения, радио, интернет-ресурсов, рекламных буклетов, будет причислена к разряду дистанционных продаж.

При принятии решения о покупке товара дистанционным методом особое внимание следует уделить информации, которую предоставляет продавец о себе, товаре и об условиях покупки. Если информация неполная или недостоверная, то следует воздержаться от покупки у этого продавца.

Если в предложении или при доставке товара не указывается фирменное наименование продавца, а также его адрес, а только указаны контактные телефоны, то стоит воздержаться от покупки. В противном случае если возникнет необходимость вернуть, обменять товар или предъявить рекламацию по недостатку, то вы не будете знать, куда обратиться и предъявить претензию к покупке (товару).

Покупатель имеет право отказаться от товара в течение семи дней или, при непредоставлении информации об условиях возврата, в течение трех месяцев с момента передачи ему товара. Основное здесь — сохранение товарного вида и потребительских свойств.

(По материалам интернет-сайта Общества защиты прав потребителей)

9.1. В чём состоит удобство дистанционной торговли, по мнению автора? Ответ запишите в бланке ответов.

За верный ответ – 2 балла

9.2. При помощи каких коммуникативных средств происходит ознакомление с товаром при дистанционной торговле? Приведите 5 примеров. Ответ запишите в бланке ответов.

За каждый верный пример – 1 балл. Всего за задание 5 баллов максимум.

9.3. Какой информации, по мнению автора, следует уделить особое внимание при покупке товара дистанционным способом? Ответ запишите в бланке ответов.

За верный ответ – 2 балла

9.4. В течение какого времени покупатель имеет право отказаться от товара при непредоставлении информации об условиях возврата? Ответ запишите в бланке ответов.

За верный ответ – 2 балла

9.5. Пользуясь обществоведческими знаниями и личным социальным опытом составьте 6 правил безопасности для покупок в Интернете. Ответ запишите в бланке ответов.

За каждое верно составленное правило – 1 балл. Всего за задание до 6 баллов.

Всероссийская олимпиада школьников 2024-2025 учебный год
Школьный этап. Обществознание, 8 класс, задания
Время выполнения 60 мин. Максимальное кол-во баллов – 100

Уважаемый участник олимпиады!

Перед Вами 10 заданий школьного этапа всероссийской олимпиады школьников по обществознанию. Для их выполнения у Вас есть 60 минут. Задания считаются выполненными, если Вы вовремя сдали их членам жюри. Внимательно читайте текст заданий. Содержание ответа вписывайте в отведённые поля, записи ведите чётко и разборчиво. При выполнении заданий можно пользоваться черновиком. Записи в черновике не учитываются при оценивании работы. За каждый правильный ответ Вы можете получить определённое членами жюри количество баллов, не выше указанной в сводной таблице максимальной оценки. Баллы, полученные Вами за выполненные задания, суммируются. Максимально возможное количество баллов за работу – 100 баллов.

Желаем успеха!

Задание 1. Установите истинность или ложность суждений. Обозначьте «да» истинные суждения, «нет» – ложные. Ответы внесите в таблицу. По 2 балла за каждый верный ответ. Максимум за задание – 18 баллов.

- 1.1. Игра не считается видом деятельности, поскольку в процессе игры не производится ничего важного для общества
- 1.2. Индивидуальность – это набор уникальных характеристик каждого индивида
- 1.3 Ученики гимназии, обучающиеся в одном классе, не могут быть рассмотрены как малая социальная группа
- 1.4. Решение социального конфликта насильственным путем является наиболее эффективным
- 1.5. Республиканские страны характеризует передача власти по наследству
- 1.6. Политика – это сфера жизни общества, возникающая вокруг властных отношений
- 1.7. Перед заключением трудового договора с несовершеннолетним работником работодатель обязан обеспечить за свой счёт прохождение им медицинского осмотра
- 1.8. Законодательная власть в РФ осуществляется Федеральным Собранием
- 1.9. Расходы семьи можно разделить на обязательные и произвольные

Задание 2. Выберите один правильный ответ из предложенных. Ответ занесите в таблицу. По 2 балла за каждый верный ответ. Максимум за задание – 10 баллов.

- 2.1 Совокупность негосударственных отношений и организаций, выражающих частные интересы граждан в различных сферах, называют
 - 1) правовым государством
 - 2) гражданским обществом
 - 3) федерацией
 - 4) многопартийностью
- 2.2 Какой функции семьи соответствует данная характеристика: «Удовлетворяет потребности каждого члена семьи в организации свободного времени.»
 - 1) досуговая
 - 2) экономическая
 - 3) репродуктивная
 - 4) воспитательная
- 2.3 Что из перечисленного характеризует традиционное общество?
 - 1) распространение демократических политических режимов

- 2) основным фактором производства является земля
 - 3) большие возможности социальной мобильности
 - 4) широкое применение технологических инноваций в производстве
- 2.4 Нормами административного права регулируются следующие ситуации?
- 1) служащий П. опоздал на работу по причине задержки автобуса
 - 2) гражданка С. проехала на троллейбусе, не оплатив покупку билета
 - 3) ученик К. вел себя на уроке очень шумно, за что был вызван к директору
 - 4) гражданка Ч. начала процесс оформления наследства своей недавно скончавшейся бабушки
- 2.5 Семья С. на семейном совете приняла решение защитить семейные сбережения от инфляции. Какое действие позволит семье С. достичь этой цели?
- 1) приобретение продовольственных товаров впрок, с запасом на будущее
 - 2) хранение наличных денег дома
 - 3) покупка облигаций с ежеквартальными платежами по ним
 - 4) оформление кредитов на ремонт квартиры

Задание 3. Выберите несколько верных ответов. Ответы внесите в таблицу. По 1 баллу за каждый верный ответ. Максимум за задание – 12 баллов.

3.1. Выберите из приведённого списка примеры восходящей вертикальной социальной мобильности.

- 1) Сантехник С. стал знаменитым писателем
- 2) Бухгалтер В. ушёл на пенсию.
- 3) Майору Т. присвоено звание подполковника
- 4) Продавец Н. назначена директором магазина
- 5) Студент Красноярского педагогического университета К. перевёлся с исторического факультета на филологический

3.2 Выберите из приведённого ниже списка принципы, заложенные в Конституции РФ:

- 1) господство государственной собственности
- 2) принцип народовластия
- 3) наделение женщин большим объёмом прав, чем мужчин
- 4) принцип социального государства
- 5) гарантии местного самоуправления

3.3. К направлениям философии относятся

- 1) идеализм
- 2) кубизм
- 3) позитивизм
- 4) марксизм
- 5) классицизм

3.4. Брак расторгается в судебном порядке в случае

- 1) возражений одного из супругов против расторжения брака
- 2) наличия у супругов общих несовершеннолетних детей
- 3) признания одного из супругов недееспособным
- 4) возникших разногласий по вопросу раздела имущества между супругами
- 5) осуждения одного из супругов к лишению свободы на срок более 3 лет

Задание 4. Что объединяет приведённые ниже понятия? Дайте максимально точный ответ. Максимум за задание – 3 балла.

Анимизм, тотемизм, фетишизм, магизм

Задание 5.

Дайте краткое обоснование ряда (что объединяет перечисленные элементы). Укажите, какой из элементов является лишним по данному основанию. 2 балла за правильное обоснование, 2 балла за указание лишнего. Максимум за задание – 4 балла.

Парламент, налоги, территория, публичная власть

Задание 6. Решите логическую задачу. По 2 балла за каждую верную пару. Максимум за задание 8 баллов.

Четверо друзей (Евгений, Никита, Полина и Александр) создали группу «Жуки». Они играют на четырёх инструментах: гитара, ударные, клавиши и флейта. Каждый играет только на одном из инструментов. Про них известно следующее.

1. Евгений иногда просит гитариста группы помочь с разбором.
2. Группа ребят репетирует дома у барабанщицы.
3. Александр и Евгений иногда сплетничают за спиной у клавишника.

Установите соответствие: кто из участников группы играет на каком инструменте?

- | | |
|--------------|------------|
| 1) Евгений | А) флейта |
| 2) Никита | Б) клавиши |
| 3) Полина | В) ударные |
| 4) Александр | Г) гитара |

Задание 7. Решите экономическую задачу. 2 балла за верный ответ. За каждое верное обоснование по 2 балла. Максимум за задание – 6 баллов.

Аграфена Ивановна решила взять кредит. Проходя мимо соседнего дома, она наткнулась на объявление: «Быстрый кредит без справок и поручителей под 1 % в день». Аграфена Ивановна была приятно удивлена: «Всего один процент! Подумать только, а в банке мне соглашались дать кредит со ставкой 15% в год!»

1. Насколько целесообразно Аграфене Ивановне брать предлагаемый быстрый кредит?
2. Приведите ДВА обоснования своего ответа.

Задание 8. Решите юридическую задачу. По 1 баллу за каждый верный ответ. По 1 баллу за каждое правильное обоснование. Максимум за задание – 4 балла.

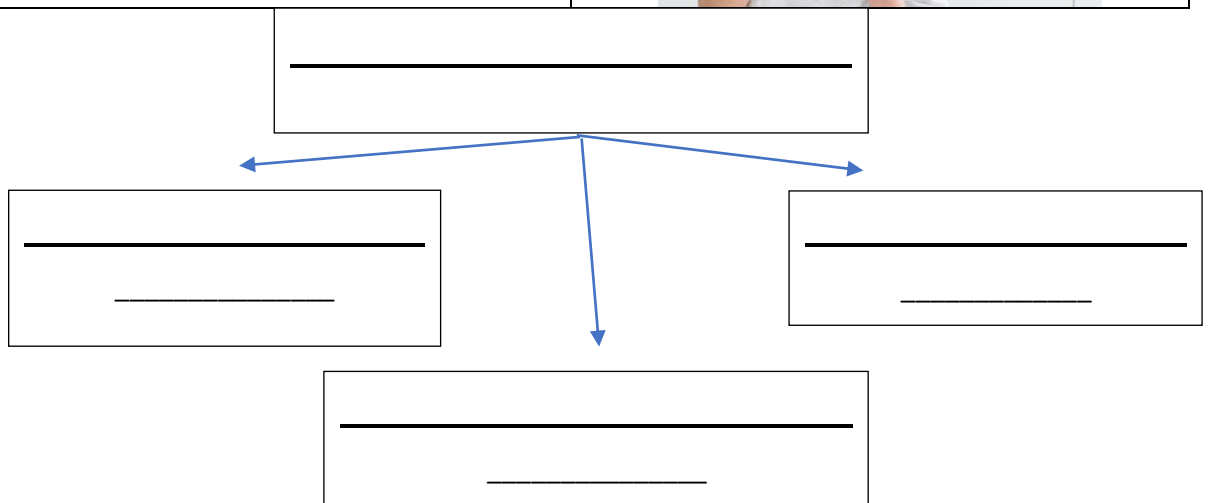
Пятнадцатилетний Михаил совершил хищение из супермаркета игровой приставки стоимостью 10 000 рублей. Он действовал тайно, полагая, что его никто не видит, однако во время выхода из магазина он был задержан охранником супермаркета. Прибывшим сотрудникам полиции он сообщил, что он совершил административное правонарушение — мелкое хищение и не подлежит никакой ответственности, поскольку ему еще нет 16 лет. Кроме того, он не успел донести приставку до дома, а значит, хищение и не было совершено.

1. Какой вид правонарушения совершил Михаил?
2. Подлежит ли Михаил привлечению к юридической ответственности и если да, то какой? Обоснуйте ваши ответы.

Задание 9. Ученик готовил презентацию по обществознанию, но в её итоговой версии произошёл сбой, в результате чего перемешались иллюстрации. Помогите восстановить презентацию по имеющимся иллюстрациям. Заполните схему, указав общую для всех изображений категорию (обобщающее понятие), а также составляющие её элементы. Впишите в соответствующие ячейки буквенные обозначения иллюстраций, которые относятся к названным Вами элементам.

3 балла за указание обобщающего понятия. По 2 балла за каждый правильно названный составляющие её элемент. (всего 6 баллов) По 1 баллу за каждое правильно внесенное в строку буквенное обозначение иллюстрации. (всего 6 баллов) Максимум за задание 15 баллов.

<p style="text-align: center;">А</p> 	<p style="text-align: center;">Б</p> 
<p style="text-align: center;">В</p> 	<p style="text-align: center;">Г</p> 
<p style="text-align: center;">Д</p> 	<p style="text-align: center;">Е</p> 



Задание 10. Вставьте вместо пропусков порядковые номера соответствующих слов из предложенного списка. Слова даны в списке в единственном числе, прилагательные в форме мужского рода. Обратите внимание: в списке слов есть и такие, которые в тексте встречаются

не должны! Ответ внесите в таблицу. По 2 балла за каждый верный ответ. Максимум за задание – 20 баллов.

В социологии семья рассматривается одновременно и как малая социальная _____ (А), и как важный _____ (Б) институт. В качестве малой группы она удовлетворяет _____ (В) потребности, в качестве института – социально значимые потребности общества. Семья является важным элементом социальной структуры общества, одной из его _____ (Г), деятельность которой регулируется как брачно-семейным _____ (Д), так и морально-нравственными _____ (Е), обычаями, традициями и т. д. Главная функция семьи – репродуктивная, т. е. биологическое _____ (Ж) населения. По своим формам и типам семейные отношения достаточно многообразны. В зависимости от структуры родственных связей выделяют два основных _____ (З) семьи: простую (_____ (И)) и сложную (расширенную). Первая состоит из родителей и находящихся на их иждивении детей, вторая – из родителей, детей и других родственников, представителей двух или более _____ (К).

Список терминов

1) подсистема	11) контроль
2) устойчивость	12) социальный
3) нуклеарная	13) функционирование
4) класс	14) подчинение
5) воспроизводство	15) личный
6) норма	16) организация
7) группа	17) предназначение
8) система	18) поколение
9) классификация	19) законодательство
10) сословие	20) тип