

**Теоретический (Тестовый тур)**

- 1. Один оборот вокруг Солнца Земля совершает:**  
А. За 365 суток  
Б. За 365 суток и 6 часов  
В. За 24 часа  
Г. За 24 часа 6 минут
- 2. Выберите дату, когда оба полушария Земли освещены одинаково:**  
А. 22 июня  
Б. 22 декабря  
В. 23 сентября  
Г. 1 января
- 3. На каких широтах Солнце в зените один раз в году:**  
А. На умеренных  
Б. На тропических  
В. На экваториальных  
Г. На арктических
- 4. Самая низкая температура воздуха, которая составляет  $-89,2^{\circ}\text{C}$ , была зафиксирована:**  
А. Остров Гренландия  
Б. Оймякон (Россия)  
В. Антарктическая станция «Восток»  
Г. Северный полюс
- 5. Над какой поверхностью испарение и испаряемость совпадают:**  
А. Над сушей  
Б. Над снегом  
В. Над водой  
Г. Над льдом
- 6. Ливневые осадки выпадают из облаков:**  
А. Слоистых  
Б. Кучево-дождевых  
В. Перистых  
Г. Перисто-слоистых
- 7. Какая река относится к бассейну Атлантического океана:**  
А. Волга  
Б. Обь  
В. Енисей  
Г. Нева.
- 8. Единственный материк, на котором нет действующих вулканов это:**  
А. Антарктида  
Б. Африка  
В. Северная Америка  
Г. Австралия
- 9. Установите последовательность рек по длине (от большей к меньшей):**  
А. Лимпопо  
Б. Уругвай  
В. Брахмапутра  
Г. Нил.
- 10. Участок земной поверхности, ежегодно затапливаемый водой во время половодья:**  
А. Водораздел  
Б. Речная система  
В. Пойма  
Г. Бассейн реки
- 11. Расположите карты по степени укрупнения их масштаба:**  
А. 1:200 000  
Б. 1:100 000  
В. 1:500 000  
Г. 1:1000 000
- 12. Выберите из перечисленных примеров низкие горы:**  
А. Кавказ  
Б. Тянь-Шань  
В. Хибины  
Г. Памир
- 13. Выберите неверное утверждение:**  
А. Географическая широта может быть северной или южной, а долгота - западной или восточной  
Б. Значения географической широты могут изменяться в пределах от  $0^{\circ}$  до  $180^{\circ}$   
В. На глобусе параллели имеют форму окружностей, а меридианы - форму дуг окружностей  
Г. Географическая широта точек земной поверхности, находящихся на экваторе, равна  $0^{\circ}$

**14. Установите последовательность географических объектов по их географическому положению с запада на восток:**

- А. Большая пустыня Виктория
- Б. Пустыня Намиб
- В. Пустыня Атакама
- Г. Ливийская пустыня

**15. Выберите правильное направление ветра между точками А и Б, если в этих точках такое давление:**

А	Б
762 мм.рт.ст	758 мм.рт.ст

1	2
←	→

**16. Какой азимут имеет направление на юго-запад?**

- А. 360°
- Б. 225°
- В. 45°
- Г. 90°

**17. Над какими широтами самое большое испарение над океаном:**

- А. Арктические
- Б. Экваториальные
- В. Умеренные
- Г. Тропические

**18. Расстояние на карте между Красноярском и Абаканом на карте по прямой равно 3,6 см, что соответствует 271 км. Определите численный масштаб карты.**

**19. Заполните пропуски:**

При подъёме вверх температура воздуха уменьшается на каждый километр на \_\_\_\_\_°С.

**20. Если в течении суток замеры температуры составили утром +10°С, днём +26°С, вечером +12°С, то средняя температура суток равна \_\_\_\_\_.**

### Практический тур

**Задание 1.**

Вам предлагается задание, требующее установления соответствия. Заполните матрицу ответов в соответствии с требованиями задания. Установите правильное соответствие между терминами и их характеристиками:

<ul style="list-style-type: none"> <li>1) Полярный круг</li> <li>2) Легенда карты</li> <li>3) Муссон</li> <li>4) Бархан</li> <li>5) Гейзер</li> </ul>	<ul style="list-style-type: none"> <li>А. Список или таблица условных обозначений на карте с разъяснениями их значения.</li> <li>Б. Устойчивые сезонные ветры у земной поверхности и в нижней части тропосферы.</li> <li>В. Воображаемая линия на поверхности Земли, расположенная на широте примерно 66°33'</li> <li>Г. Песчаный холм серповидной формы,</li> </ul>
---	--




	<p>навеянный ветром и не закрепленный растительностью в пустынях и полупустынях.</p> <p>Д. Фонтаны горячей воды и пара, с шумом выбрасываемые из подземного их скопления по вертикальному каналу на поверхность Земли.</p>
--	--



**Максимальное количество баллов – 5.**

**Задание 2.**

Напишите какие процессы формируют природные достопримечательности

г. Красноярска и его окрестностей

№№ п/п	Природный объект	Название
1		Красноярские Столбы
2		Стенка сиенитового карьера. Красноярские Столбы
3		Гора Черная Сопка

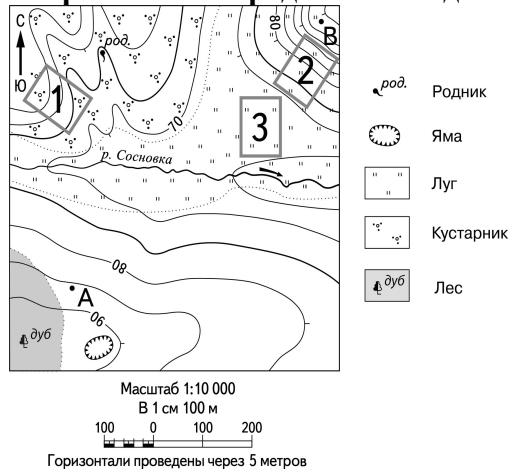
4	 A wide-angle photograph showing a river valley with terraced hillsides. In the background, there are rolling hills and a town with several buildings. The sky is clear and blue.	Террасы р. Енисей
5	 A close-up photograph of a rocky cliff face. A dark, irregular opening in the rock indicates a cave entrance. There are some green bushes and trees in the foreground.	Пещера. Торгашинский хребет

**Максимальное количество баллов – 10.**

**Теоретический (Тестовый) тур**

- 1. Кто из путешественников первым достиг мыса Доброй Надежды в Африке?**  
А. Джеймс Кук  
Б. Фернан Магеллан  
В. Христофор Колумб  
Г. Бартоломеу Диаш
- 2. Кто из путешественников открыл пролив между Евразией и Америкой?**  
А. Афанасий Никитин  
Б. Христофор Колумб  
В. Витус Беринг  
Г. Иван Москвитин
- 3. Как называется звезда, по которой можно определить направление на север в Северном полушарии?**  
А. Полярная звезда  
Б. Сириус  
В. Альтаир  
Г. Андромеда
- 4. Линия на глобусе или карте, соединяющая северный и южный полюса называется:**  
А. Экватор  
Б. Северный тропик  
В. Южный тропик  
Г. Меридиан
- 5. Как называется прибор, который измеряет влажность воздуха?**  
А. Барометр-анероид  
Б. Флюгер  
В. Гигрометр  
Г. Компас
- 6. Как называется место, в котором небо визуально соприкасается с землей или водным пространством?**  
А. Ориентир  
Б. Азимут  
В. Горизонт  
Г. Пространство
- 7. Западно-Сибирская равнина по отношению к Восточно-Европейской (Русской) равнине находится:**  
А. Западнее  
Б. Восточнее  
В. Севернее  
Г. Южнее
- 8. Как называется наука, изучающая природные воды и происходящие в них явления и процессы?**  
А. Гидрология  
Б. Геоморфология  
В. Климатология  
Г. Гляциология
- 9. Относительная высота – это:**  
А. Превышение точки земной поверхности над уровнем моря.  
Б. Превышение по вертикали одной точки на земной поверхности над другой.  
В. Линии на карте, соединяющие точки с одинаковой высотой.
- 10. К полезным ископаемым метаморфического происхождения относится:**  
А. Торф  
Б. Известняк  
В. Глина  
Г. Мрамор
- 11. Самый крупный по площади материк:**  
А. Евразия  
Б. Африка  
В. Австралия  
Г. Южная Америка
- 12. Назовите океан, к бассейну которого относится река Лена \_\_\_\_\_.**
- 13. Определите приток Енисея:**  
А. Иртыш  
Б. Ока  
В. Ангара  
Г. Терек
- 14. Какие из перечисленных объектов расположены на территории Евразии?**  
А. Енисей, Байкал, Нил  
Б. Амур, Гималаи, Байкал  
В. Россия, Килиманджаро, Виктория  
Г. Анды, Байкал, Волга

15. Определите, в каком направлении от родника находится яма?



- А. Северное
- Б. Южное

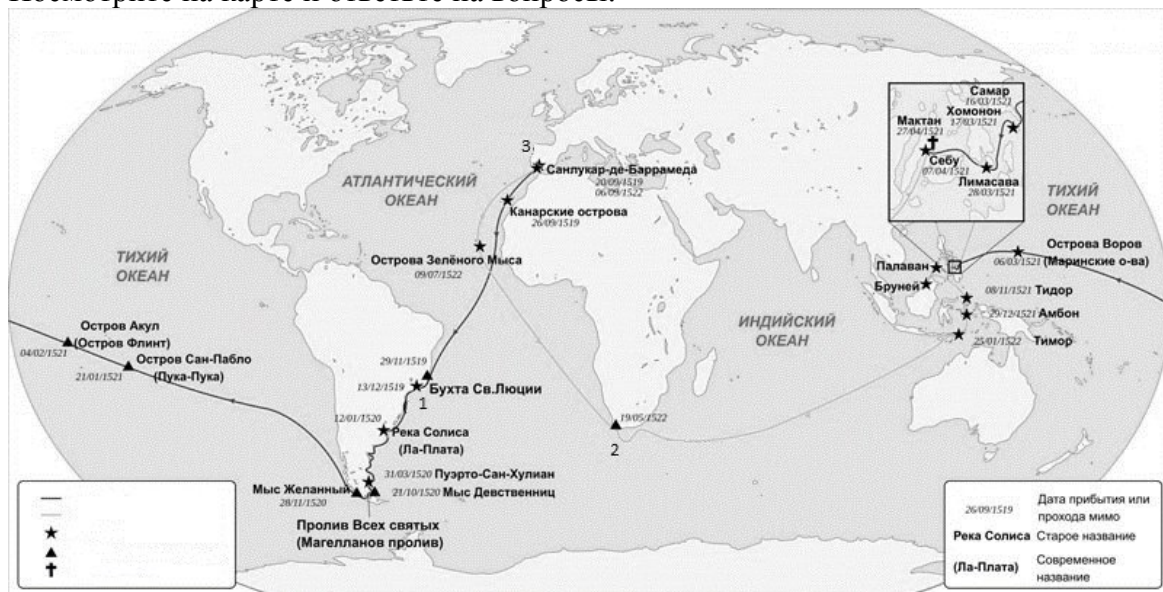
- В. Западное
- Г. Восточное

Все ответы перенесите в бланк ответов!!!

Практический тур

Задание 1

Посмотрите на карте и ответьте на вопросы:








1. Кто совершил первое кругосветное путешествие, изображённое на карте? (2 балла)  
\_\_\_\_\_
2. Какое событие произошло в месте, обозначенном крестом? (3 балла)  
\_\_\_\_\_
3. Назовите страну, где начиналось путешествие? (3 балла)  
\_\_\_\_\_

Максимальное количество баллов – 8.

**Задание № 2.**

Вставьте недостающую информацию о климатических явления в соответствующую колонку.

№	Явление	Название	Определение
1			Вид ливневых осадков в виде частиц льда преимущественно округлой формы.
2			Явление продолжительной нехватки воды,
3			Оптическое явление, при котором верхний слой атмосферы планеты светится зелёными, красными, жёлтыми, синими и фиолетовыми цветами.
4		Радуга	
5			Затопление определённой территории в результате подъёма уровня воды в реке, озере, водохранилище.

**Максимальное количество баллов –7.**

**Все ответы перенесите в бланк ответов!!!**

Всероссийская олимпиада школьников 2025-2026 учебный год  
Школьный этап. География, 5 классы, задания  
Время выполнения 45 мин. Максимальное количество баллов – 25  
**Теоретический (тестовый) тур**

- 1. Каким прибором измеряют атмосферное давление?**  
А. Термометр  
Б. Барометр  
В. Сантиметр  
Г. Анемометр
- 2. Определите термин по определению**  
Как называется воображаемая линия, которая делит Землю на два полушария: Северное и Южное – это \_\_\_\_\_
- 3. Какая самая большая планета в Солнечной системе?**  
А. Марс  
Б. Юпитер  
В. Плутон  
Г. Земля
- 4. От вращения Земли вокруг Солнца зависит:**  
А. Смена дня и ночи  
Б. Смена времен года  
В. Смена дней недели  
Г. Смена часовых поясов
- 5. В древней Руси самым известным торговым маршрутом был «путь из варяг в греки». Где жили варяги?**  
А. Америка  
Б. Урал  
В. Византия  
Г. Северная Европа
- 6. В направлении с севера на юг в нашей стране сменяются несколько природных зон: арктические пустыни, тундра, \_\_\_\_\_, смешанные леса, степи, пустыни, субтропики. Определите какое слово пропущено**
- 7. Как называются самые плодородные почвы?**  
А. Черноземные  
Б. Подзолистые  
В. Тундровые  
Г. Серые лесные
- 8. Суслик является символом острова Татышев в г.Красноярске. В какой природной зоне традиционно живет суслик?**  
А. Тайга  
Б. Тундра  
В. Смешанный лес  
Г. Степь
- 9. Какая равнина раскинулась к западу от Уральских гор?**  
А. Русская (Восточно-Европейская)  
Б. Восточно-Сибирская  
В. Западно-Сибирская  
Г. Западно-Европейская
- 10. В каком году был основан город Красноярск?**  
А. 1628  
Б. 1678  
В. 1828  
Г. 1934
- 11. Какой город расположен на границе Европы и Азии и славится своими пуховыми платками?**  
А. Уфа  
Б. Пермь  
В. Оренбург  
Г. Красноярск
- 12. Как переводится название науки «география»?**  
А. Землеустройство  
Б. Землеописание  
В. Жизнь Земли  
Г. Описание территории
- 13. Какую новую часть света открыл Христофор Колумб?**  
А. Индия  
Б. Америка  
В. Китай  
Г. Антарктида

14. Какая страна является родиной Олимпийских игр?

А. Древний Рим

В. Древняя Греция

Б. Древний Египет

Г. Древняя Финикия

15. Выберите дату зимнего солнцестояния

А. 20 марта

В. 21 июня

Б. 22 декабря

Г. 23 июля

**Все ответы перенесите в бланк ответов!!!**

### Практический тур

**Задание 1. Максимальное количество баллов за задание – 10 баллов**

По иллюстрациям в таблице определите природную зону и приведите примеры животных, обитающих в этой природной зоне. Ответы запишите в таблице в бланке ответов.

1 	2 
3 	4 
5 	

Всероссийская олимпиада школьников 2025-26 учебный год  
Школьный этап. География, 9 класс, задания.  
Время выполнения 90 мин. Максимальное кол-во баллов – 50  
**Все ответы занесите в бланк ответов!!!**

### Теоретический (Тестовый) тур

- 1. Линия перемены дат - это:**

А. Гринвичский меридиан	В. Меридиан 180°
Б. Меридиан 90°	Г. Северный тропик
- 2. Чем расстояние между горизонталями больше, тем склон более:**

А. Обрывистый	В. Крутой
Б. Пологий	Г. Высокий
- 3. Почему Полярная звезда практически не меняет своего положения на небосклоне?**
  - А. Является неподвижной
  - Б. Расположена над Северным полюсом
  - В. Расположена над Южным полюсом
  - Г. Расположена очень далеко, поэтому её движение не заметно
- 4. Естественный прирост населения это:**
  - А. Разница между коэффициентами рождаемости и смертности
  - Б. Сумма родившихся и прибывших
  - В. Разница между числом родившихся и умерших
  - Г. Рост численности населения
- 5. Найдите соответствие между городом и рекой, на которой он расположен:**

А. Салехард	1. Вятка
Б. Киров	2. Лена
В. Усть-Кут	3. Обь
Г. Камышин	4. Волга
- 6. Расстояние от берега до границы территориальных вод России составляет, в км:**

А. 17,1	В. 22,2
Б. 12	Г. 33,3
- 7. Доля населения России в мировом населении составляет в процентах:**

А. 0,05	В. 1
Б. 0,5	Г. 2
- 8. Впервые прошёл из Северного Ледовитого океана в Тихий:**

А. Семён Дежнёв	В. Харитон Лаптев
Б. Витус Беринг	Г. Семён Челюскин
- 9. Калининградская область граничит с:**

А. Литвой и Польшей	В. Польшей и Белоруссией
Б. Латвией и Польшей	Г. Литвой и Белоруссией
- 10. Первое место в России по площади бассейна занимает река:**

А. Волга	В. Обь
Б. Енисей	Г. Лена
- 11. Перловка – это крупа, получаемая из:**

А. овса	В. ячменя
Б. проса	Г. ржи
- 12. Земля за один час поворачивается на:**

А. 7,5°	В. 33,3°
Б. 15°	Г. 23°

**13. Крупнейший район производства алюминия в России:**

- А. Восточная Сибирь  
 Б. Урал  
 В. Дальний Восток  
 Г. Европейский Север

**14. Атомные подводные лодки выпускают в:**

- А. Мурманске  
 Б. Владивостоке  
 В. Санкт-Петербурге  
 Г. Северодвинске

**15. Производство минеральных удобрений относится к:**

- А. химии органического синтеза  
 Б. основной химии  
 В. горно-химической промышленности  
 Г. сельскому хозяйству

**16. Более половины всей целлюлозы России даёт:**

- А. Поволжье  
 Б. Восточно-Сибирский район  
 В. Европейский Север  
 Г. Волго-Вятский район

**17. Примерно половина валового сбора сахарной свеклы приходится на район:**

- А. Уральский  
 Б. Центральный  
 В. Поволжский  
 Г. Центрально-Чернозёмный

**18. Овцеводство использует преимущественно корма:**

- А. пастбищные  
 Б. полевые  
 В. концентрированные  
 Г. комбикорм

**19. Большая часть российских тканей вырабатывается в районе:**

- А. Поволжском  
 Б. Центральном  
 В. Северо-Западном  
 Г. Волго-Вятском

**20. Самый большой грузооборот речного транспорта приходится на бассейн:**

- А. Обь-Иртышский  
 Б. Волго-Камский  
 В. Ленский  
 Г. Ангаро-Енисейский

**Практический тур****Задание 1. Максимальное количество баллов – 14.**

С помощью данных, приведенных в таблице, определите города и их достопримечательности, пропущенные в тексте. Запишите в таблицу город и букву достопримечательности.

Города: Владивосток, Красноярск, Мурманск, Обнинск, Севастополь, Сочи, Хатанга.

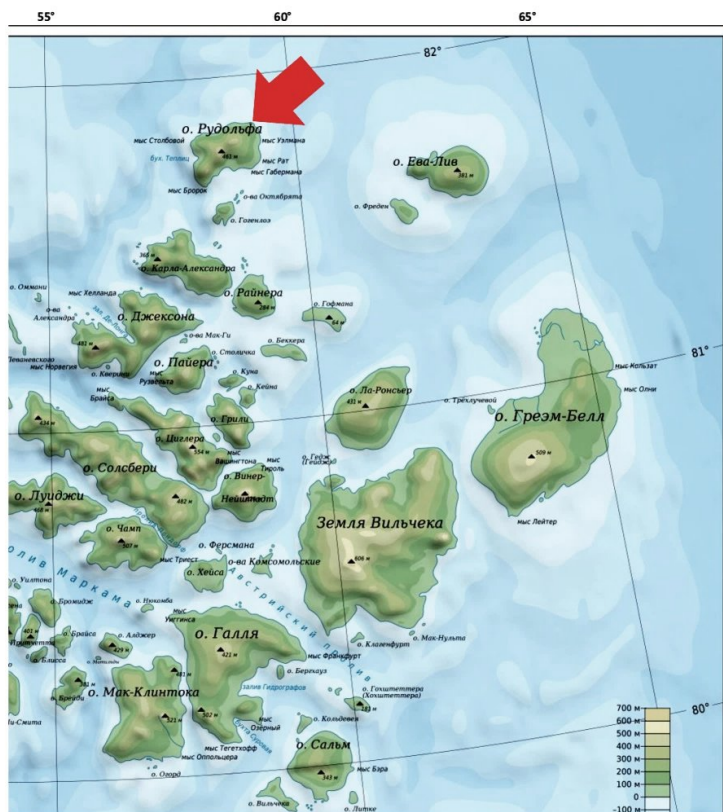
Достопримечательности: А – Часовня Параскевы Пятницы, Б – Ледовая дамба, В – Атомный ледокол «Ленин», Г – Малахов курган, Д – город-наукоград, Е – Золотой мост, Ж – Роза-хутор.

Таблица 1

№	Город	Климатические пояса и климатические области	Основные природные, экономические и культурные достопримечательности
1		Умеренный континентальный резко	.....- исторический объект, изображенный на аверсе купюры в 10 рублей
2		Субарктический	.....- уникальное рукотворное сооружение, которое строят ежегодно для защиты порта от льдин во время весеннего ледохода. Длина 60 м, высота около 10 м.
3		Субарктический	.....- объект культурного наследия федерального

			значения
4		Субтропический	.....- мемориальный комплекс, посвященный защитникам отечества в Великой Отечественной войне
5		Умеренный континентальный	В 1999 году был принят федеральный закон "О статусе наукограда Российской Федерации". Первым официальным наукоградом стал -
6		Умеренный морской с элементами муссонной циркуляции	..... соединил берега бухты Золотой рог в 2012 году. Одна из главных достопримечательностей города.
7		Субтропический	..... круглогодичный горнолыжный курорт

**Задание 2. Максимальное количество баллов -3.**



Перед вами фрагмент карты с группой островов. Ответьте на вопросы.

- 1) Как называется мыс, показанный стрелкой?
- 2) Как называется группа близкорасположенных островов?
- 3) В честь кого названа эта группа островов?

**Задание 3. Максимальное количество баллов – 3.**



Представьте, что вы плывете по реке. Вам предстоит проплыть ни одну тысячу километров, спускаясь от истоков до устья, и каких только ландшафтов вы не встретите на своем пути! В пути вам пригодится карта.

1. Напишите название реки России, изображённой на рисунке.
  2. Напишите, сколько тысяч километров придется вам проплыть по этой реке от истока до устья (ответ округлить до тысяч)
  3. Перечислите природные зоны, которые вы пересечёте от истока до устья
- 

**Задание 4. Максимальное количество баллов – 10.**

Численность населения города Красноярска 1,2 млн человек, площадь территории города 380 км<sup>2</sup>.

- 1) Вычислите среднюю плотность населения Красноярска. В ответе укажите не только число, но и единицу измерения. Напишите ход решения.
- 2) Какова средняя плотность населения России?
- 3) Во сколько раз плотность населения Красноярска выше среднероссийской?

### Теоретический (Тестовый) тур

#### 1. Сопоставьте геолого-тектонические структуры с их морфоструктурой:

##### *Геолого-тектонические структуры*

##### *Морфоструктуры*

- |                                      |                                   |
|--------------------------------------|-----------------------------------|
| А. Сибирская платформа               | 1 – Кузнецкий Алатау              |
| Б. Западно-Сибирская платформа       | 2 – Средне-Сибирское плоскогорье  |
| В. Русская платформа                 | 3 – Западно-Сибирская низменность |
| Г. Алтае-Саянская складчатая область | 4 – Прикаспийская низменность     |

#### 2. Выберите суждение:

«Вулканическая активность на востоке России связана с ...»:

- А. Процессом погружения Тихоокеанской литосферной плиты под Евроазиатскую
- Б. Процессом расхождения Тихоокеанской и Евроазиатской литосферных плит

#### 3. Расставить периоды геологической истории Земли в порядке увеличения возраста:

- |             |          |
|-------------|----------|
| А. Кембрий  | Г. Мел   |
| Б. Палеоген | Д. Девон |
| В. Юра      |          |

#### 4. Выберите верные суждения:

- А. Складчатость, сформировавшая Алтае-Саянскую горную систему, проходила в кайнозойскую эру
- Б. Формирование термокарстовых котловин озер происходит в условиях жаркого сухого климата
- В. Максимально заболоченной территорией России является Западная Сибирь
- Г. Котловина озера Байкал сформирована ледниковыми процессами

#### 5. На побережье какого моря находится самая низкая точка России:

- |                |              |
|----------------|--------------|
| А. Балтийского | В. Азовского |
| Б. Черного     | Г. Баренцева |

#### 6. Какой остров в Северном Ледовитом океане находится одновременно в западном и восточном полушариях:

- |               |                        |
|---------------|------------------------|
| А. Гренландия | В. Врангеля            |
| Б. Шпицберген | Г. Земля Франца Иосифа |

#### 7. Определите верность суждения: «Степень континентальности климата в России определяется близостью к акватории Тихого океана»

- |          |            |
|----------|------------|
| А. Верно | Б. Неверно |
|----------|------------|

#### 8. Слово «климат» образовано от:

- |           |            |
|-----------|------------|
| А. Наклон | В. Год     |
| Б. Время  | Г. Область |

#### 9. В каком океане находится самый крупный вулканический остров?

#### 10. Назовите неправильные утверждения:

- А. Азиатский барический максимум – малоподвижная область высокого давления с центром вблизи г. Красноярска
- Б. Тихий океан не оказывает влияние на климатические особенности большей части России
- В. В полосе атмосферного фронта происходят быстрые изменения давления, температуры, влажности

#### 11. Определите верность суждения: «Большая часть России находится умеренном климатическом поясе»

- |          |            |
|----------|------------|
| А. Верно | Б. Неверно |
|----------|------------|






- 12. Формирование покровного оледенения связано с:**
- А. Замерзанием воды океанов и морей
  - Б. Накоплением твердых атмосферных осадков в виде снега
  - В. Замерзанием жидких атмосферных осадков
- 13. Какие утверждения о литосферных плитах верны:**
- А. Литосферные плиты медленно передвигаются по мягкому пластинчатому слою мантии
  - Б. Океанические литосферные плиты легче континентальных
  - В. В зоне расхождения литосферных плит формируются глубоководные желоба
  - Г. Границы литосферных плит точно соответствуют границам материка
  - Д. Евроазиатская и Австрало-Индостанская литосферные плиты расходятся относительно друг друга
- 14. Расставьте океаны по степени солености от меньшей к большей:**
- А. Индийский
  - Б. Северный Ледовитый
  - В. Тихий
  - Г. Атлантический
- 15. В каком климатическом поясе годовая амплитуда температуры составляет 0°С:**
- А. Субарктическом
  - Б. Субтропическом
  - В. Субэкваториальном
  - Г. Экваториальном
- 16. Определите верность суждения: «Количество и мощность ледниковых покровов на островах Северного Ледовитого океана убывает с запада на восток»**
- А. Верно
  - Б. Неверно
- 17. Начиная с глубины 100-120 м жизнь в водах Черного моря угнетена. Это связано с:**
- А. Высокой температурой воды
  - Б. Высокой соленостью воды
  - В. Резким повышением гидростатического давления
  - Г. Сероводородным заражением воды
- 18. Уникальность природы плато Путорана на Средне-Сибирском плоскогорье связана с:**
- А. Суровыми климатическими условиями
  - Б. Геологическим строением
  - В. Широким распространением многолетнемерзлых горных пород
- 19. Выберите верное суждение:**
- А. Пустыня Уюни находится в Центральных Андах и является крупнейшим солончаком в мире
  - Б. Пустыня Сахара является крупнейшей каменистой пустыней в мире
  - В. Пустыня Гоби крупнейшая каменистая пустыня Африки
- 20. Чему обязано название «Йеллоустонский национальный парк»:**
- А. Особому типу лишайников, покрывающих поверхность Земли
  - Б. Отложениям серы, образовавшейся при извержении вулкана
  - В. Первооткрывателю этой территории

**Перенесите ответы в бланк ответов!!!!**

### **Практический тур**

**Задание 1. Максимальное количество баллов – 7.**

Вставьте недостающую информацию о климатических явления в соответствующую колонку.

№	Явление	Название	Определение
1		Молния	
2		Циклон	
3			Перенос сильным приземным ветром падающего или выпавшего ранее снега.
4			Вихрь, который зарождается в грозовом облаке и закручивается вниз.
5			Атмосферное оптическое явление, вызванное преломлением света в кристаллах льда.

## Задание 2. Максимальное количество баллов – 5.

### Прочитайте текст и ответьте на вопросы:

Климат этой части западного побережья одного из континентов во многом зависит от холодного течения. Здесь расположена одна из самых засушливых пустынь материка – пустыня Большая Песчаная и другие засушливые области, где дожди крайне редки. Холодное течение охлаждает воздух над океаном, создавая условия для образования туманов у побережья, однако осадки практически не выпадают. Днем над раскаленной сушей давление сильно понижается, тогда как над океаном оно остается выше. В результате днем ветер дует с океана на сушу, а ночью – наоборот. Эти ветры хоть и не приносят много влаги, но играют важную роль в формировании местного климата.

3.1. Почему на побережье образуются ветра, дующие днем с океана на сушу?

3.2. О каком континенте идет речь?

3.3. Почему здесь формируются такие засушливые условия?

### Задание 3. Максимальное количество баллов – 10

На карте мира точками обозначены географические объекты. Изучите карту и впишите в таблицу, название географического объекта и на каком материке он находится. На карте представлены: пустыни, полуостров, озеро, горная система.

